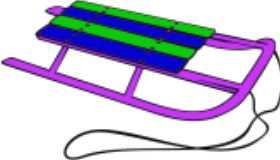















Задание - 1

Определи логику задачи и реши ее.
Результат и будет подсказкой...







				
С	А	Н	К	Т

								
П	Е	Т	Е	Р	Б	У	Р	Г

Сохрани эти буквы и цифры: 4 0 2 Р 7 6 М

Задание - 2






Определи логику задачи и реши ее.
Результат и будет подсказкой...

					
А	Ф	Р	И	К	А

Сохрани эти буквы и цифры: **6 я 2 ы 7 ч 1**

Задание - 3

Определи логику задачи и реши ее.
Результат и будет подсказкой...







				
Ю	Ж	Н	А	Я





						
А	М	Е	Р	И	К	А

Сохрани эти буквы и цифры: Г 7 Т 6 9 2 Е

Задание - 4

Определи логику задачи и реши ее.
Результат и будет подсказкой...

					
А	Н	Т	А	Р	К

			
Т	И	Д	А

Сохрани эти буквы и цифры: **В 7 2 Й 8 6 Ж**

Задание - 5

Определи логику задачи и реши ее.
Результат и будет подсказкой...

					
О	С	Т	Р	О	В

Сохрани эти буквы и цифры: **А 5 Д 6 2 К 7**

Задание - 6

Используя буквы и цифры из прошлых заданий определи цифровой код замка, запиши его в клеточки ниже и открой замок на «сундучке».

7	6	2
---	---	---

Подсказка (закономерность):

Цифры **7** **6** и **2** встречаются на карточках всех 5-ти (предыдущих) заданий (остальные буквы и цифры не повторяются).